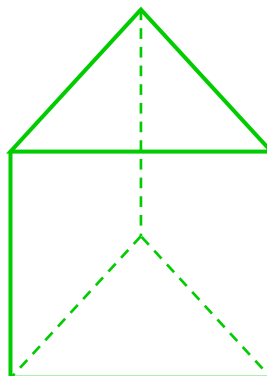
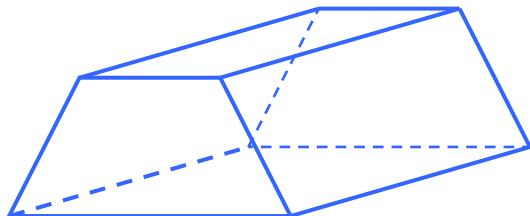
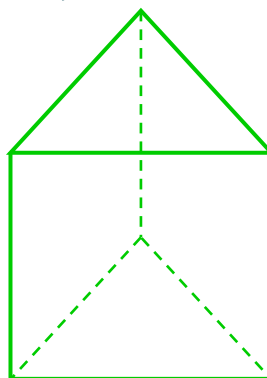
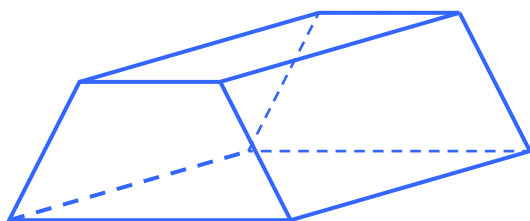


Część II - Przekątne

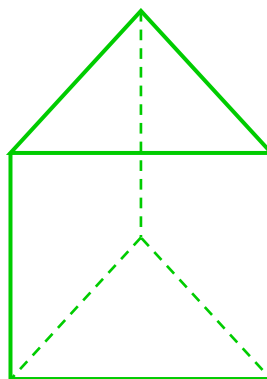
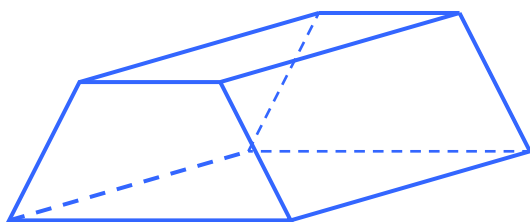
1. Zaznacz wszystkie przekątne podstawy dolnej.



2. Zaznacz przekątne wybranej ściany bocznej.



3. Zaznacz przekątną graniastostupa.



4. Zaznacz przekątną ściany bocznej i podstawy wychodzące z jednego wierzchołka.

